

**9º**  
**ANO**

**Geografia**

**MATERIAL  
DIGITAL**

# Ásia

**1º bimestre**  
**Aula 14**

**Ensino Fundamental:**  
**Anos Finais**

Secretaria da  
Educação



**SÃO PAULO**  
GOVERNO DO ESTADO

## Conteúdos

- Tensões e territórios: O caso da China e das Coreias.

## Objetivos

- Analisar e discutir os conflitos e tensões envolvendo a China;
- Analisar e discutir os conflitos e tensões envolvendo as Coreias.

## Para começar



5 minutos

COM SUAS PALAVRAS



Leia o trecho a seguir e discuta com seus colegas e professor sobre:

1. O que você sabe sobre a península coreana?
2. Por que alguns consideram Taiwan a ilha mais disputada do mundo?

“

Coreia do Sul e Taiwan (Formosa) tiveram, nos últimos sessenta anos, altas taxas de crescimento do Produto Interno Bruto – PIB com intenso desenvolvimento econômico e social. Entre as razões apontadas para o sucesso desses países destacam-se: investimento maciço em educação, ciência e tecnologia – C&T e redistribuição de renda no início do processo, o que aumentou o mercado para bens de consumo de massa.”

(ALBUQUERQUE, 2017)

### Localização

A Ásia é o maior continente em área terrestre, e está localizado no hemisfério oriental.

Faz fronteira a leste com o oceano Pacífico, a oeste com a África e a Europa, ao sudeste com a Oceania e ao extremo setentrional está o oceano Glacial Ártico.



Imagem 1. Localização do continente asiático.

Reprodução – SSOLBERG/WIKIMEDIA COMMONS, 2009. Disponível em:  
[https://commons.wikimedia.org/wiki/File:Asia\\_\(orthographic\\_projection\).sv](https://commons.wikimedia.org/wiki/File:Asia_(orthographic_projection).sv).  
Acesso em: 13 set. 2024.



# Ásia: contexto global

A Ásia é uma região de grande importância estratégica por diversos fatores:

- ✓ **Econômico**: com algumas das maiores economias do mundo, como o Japão, a Índia e a China, sendo esta última a segunda maior economia do mundo, por conta de um rápido crescimento industrial e econômico nas últimas décadas. A região influencia diversas cadeias de suprimentos e mercado financeiro por ser um centro de comércio, manufatura e tecnologia;
- ✓ **Geopolítica e segurança**: centro de tensões geopolíticas críticas, como o mar do sul da China/mar do Japão, e as tensões na península coreana. Além da presença de potências nucleares, como a China, Índia e Coreia do Norte;
- ✓ **Influência demográfica**: abriga mais de 4,5 bilhões de pessoas, sendo a região mais populosa do mundo.

### China

A China atual é considerada um país de grande importância estratégica decorrente de seu peso econômico e industrial no contexto global.

Essa posição é decorrente das **reformas econômicas** iniciadas na década de 1970, por Deng Xiaoping, as quais ficaram marcadas pela criação das **Zonas Econômicas Especiais (ZEE)** e um crescimento econômico que com o passar do tempo removeu milhões de pessoas da pobreza. Além da rápida urbanização no país, que conta com uma infraestrutura avançada, com trens de alta velocidade, aeroportos modernos e suas megacidades.



Imagem 2. Vista aérea de Xangai na China. É a maior cidade do país, considerada o núcleo financeiro global.

© Getty Images





UM PASSO DE CADA VEZ



2 minutos

## China

Na década de 1970, a China iniciou uma série de reformas econômicas, que resultou em...

**Criação de ZEEs, crescimento econômico a médio prazo e manutenção da população no campo.**

**Criação de fábricas para insumos agrícolas no campo em detrimento das cidades.**

**Criação de ZEEs, rápido crescimento econômico e urbano.**

**Criação de ZEEs, levando milhões de pessoas a extrema pobreza.**

Continua





UM PASSO DE CADA VEZ



2 minutos

## China

Na década de 1970, a China iniciou uma série de reformas econômicas, que resultou em...



Criação de ZEEs, crescimento econômico a médio prazo e manutenção da população no campo.

Criação de fábricas para insumos agrícolas no campo em detrimento das cidades.



Criação de ZEEs, rápido crescimento econômico e urbano.

Criação de ZEEs, levando milhões de pessoas a extrema pobreza.



Continua







Imagem 3. Planta da fábrica automobilística BYD, na Bahia. A montadora se destaca mundialmente pelos seus veículos elétricos. O Brasil será o primeiro país a receber uma fábrica dessa montadora fora da Ásia.

Reprodução – BYD, 2024. Disponível em: [https://www.byd.com/br/noticias-byd-brasil/BYD-inicia-obras-da-primeira-fabrica-de-carros-eletricos-no-Brasil.html?gad\\_source=1&gclid=CjwKCAjw59q2BhBOEiwAKc0ijayd3ZsZyJAFM7IRbBgTCKv7tJU2n3rHLg4f79uy7o3Y\\_bck8Gj9BoCkYMQAvD\\_BwE](https://www.byd.com/br/noticias-byd-brasil/BYD-inicia-obras-da-primeira-fabrica-de-carros-eletricos-no-Brasil.html?gad_source=1&gclid=CjwKCAjw59q2BhBOEiwAKc0ijayd3ZsZyJAFM7IRbBgTCKv7tJU2n3rHLg4f79uy7o3Y_bck8Gj9BoCkYMQAvD_BwE). Acesso em: 13 set. 2024.

No desenvolvimento industrial, a China passou a liderar a produção de aço, eletrônicos e automóveis que competem globalmente.

Além disso, a China prevê que no ano de 2025 será **líder global** no setor de alta tecnologia, robótica, biotecnologia, veículos elétricos e semicondutores, por conta do investimento massivo que é realizado nessas áreas.

### Tensões e territórios: China e Taiwan

O conflito entre China e Taiwan (também conhecida como Taipei) remonta à Guerra Civil Chinesa (1927-1949), quando o Partido Comunista Chinês, liderado por Mao Tsé-tung, derrotou o Partido Nacionalista, liderado por Chiang Kai-shek, que se refugiou junto ao que restou do partido, em Taiwan, e lá estabeleceram um governo que se considera o legítimo governo da China.

No pós-guerra, Taiwan foi considerada uma província rebelde. Oficialmente é conhecida como República da China (ROC), ainda que possua governo autônomo, Constituição própria e Forças Armadas, porém, não há uma declaração formal de independência.



Imagem 4. Taiwan fica na chamada Primeira cadeia de ilhas, em que se encontram os territórios aliados dos Estados Unidos.

Reprodução – BBC NEWS BRASIL, 2024. Disponível em:  
<https://www.bbc.com/portuguese/articles/c72yyjky4emo>. Acesso em: 13 set. 2024.





Imagem 5. Nixon ao lado de Mao Tsé-Tung, durante a aproximação dos EUA com a China, em 1972.

---

Reprodução – DW, 2023. Disponível em: <https://www.dw.com/pt-br/o-hist%C3%B3rico-das-tens%C3%B5es-entre-china-e-taiwan/a-65293548>. Acesso em: 13 set. 2024.

## Tensões políticas e diplomáticas

A República Popular da China (RCP) adota a política de que só há “Uma China”, sendo essa uma condição política para suas relações diplomáticas. Dessa forma, sua capital Pequim, exerce pressão para que a comunidade internacional isole Taiwan, o que inclui a participação na ONU e em relações diplomáticas e comerciais.

Em 2024, apenas treze países, mais o Vaticano, reconheciam Taiwan como uma país soberano.



### Tensões econômicas e militar

Taiwan tem uma das economias mais avançadas do continente, com destaque para a indústria de semicondutores, sendo líderes na produção de chips, essenciais na tecnologia moderna.

No campo militar, a China vem expandindo sua capacidade e construindo forças navais e aéreas modernas e capazes de operar em torno de Taiwan.

Como resposta, há a relação de Taiwan e Estados Unidos, em que esse apesar de não reconhecer a independência de Taiwan, fornece apoio militar e comércio de armas defensivas, além da promessa em ajudar na defesa do território, caso seja atacado.

### Forças armadas de China e Taiwan

	 China	 Taiwan
<b>Total de forças ativas</b>	<b>2.035.000</b>	<b>169.000</b>
Forças terrestres 	965.000	94.000
Marinha 	260.000	40.000
Força aérea 	395.000	35.000
Reservas 	510.000	1.657.000
Tanques 	5.400	650
Aeronaves 	3.227	504
Submarinos 	59	4
Navios* 	86	26
Artilharia 	9.834	2.093

\*inclui apenas navios classificados como combatentes de superfície, como porta-aviões, cruzadores, destróieres e fragatas

Fonte: The Military Balance 2022, IISS



Imagem – Diferença do poder bélico entre China e Taiwan.

Reprodução – BBC NEWS BRASIL, 2024. Disponível em:  
<https://www.bbc.com/portuguese/articles/c72yyjky4emo>. Acesso em: 13 set. 2024.

### Atualmente

Em 2022, Taiwan recebeu a visita de autoridades estrangeiras, o que provocou reação intensa em Pequim, que respondeu com exercícios militares ao redor da ilha.

Em 2024, os taiwaneses elegeram Lai Ching-Te, também conhecido como William Lai. O político do Partido Progressista Democrático, mantém uma postura mais apartada de uma possível reunificação com a China e defende estreitar os laços com os Estados Unidos.

Do ponto de vista global, a questão de Taiwan é vista como um dos possíveis conflitos militares no continente, que pode envolver Estados Unidos e outros aliados, além de comprometer economicamente a cadeia global de suprimentos de tecnologia.




Imagem 6. Microchips são essenciais para o mundo globalizado e digital atualmente, e estão no centro de interesse entre Taiwan, China e Estados Unidos.

© Getty Images



# As Coreias

As Coreias eram um único território, ocupado pelo Japão (1910-1945), até a Segunda Guerra Mundial. Com a derrota do Japão em 1945 e a Guerra Fria, a URSS invadiu a Região Norte e os EUA a Região Sul, influenciando no modelo de governar de cada uma dessas regiões.

Em 1950, tropas norte-coreanas invadiram a Coreia do Sul, e os EUA enviaram tropas para o sul na intenção de evitar a disseminação do socialismo na região.



Imagem 7. Ponte da Liberdade que liga a Coreia do Sul a Coreia do Norte na Zona Desmilitarizada (DMZ).

© Getty Images

FICA A DICA



**Coreia do Norte:** governo comunista, altamente centralizado e autoritário, se desenvolveu por meio de uma economia planificada e com forte ênfase militar.

**Coreia do Sul:** governo democrático, com rápido crescimento econômico e industrial, tornando-se uma das economias mais avançadas da Ásia.



Após a guerra, foi assinado o **armistício** que definiu o paralelo 38 norte como a fronteira entre os países, estabelecendo assim a **Zona Desmilitarizada (DMZ)**. Como um tratado de paz nunca foi assinado, as Coreias ainda estão em estado de guerra e, conseqüentemente, permanecem com essa divisão de território.

Durante esse período de estado de guerra, as Coreias tentaram durante décadas se reaproximarem. Nos anos 2000, na Cúpula Intercoreana, os líderes das Coreias se encontraram e falaram sobre a possibilidade de se unirem, chegando a construir um monumento de reunificação das Coreias.

No ano de 2018, os presidentes das Coreias se encontraram na Cúpula Intercoreana. O líder norte-coreano, Kim Jong-un, atravessou a pé para o sul pela primeira vez desde o fim da Guerra da Coreia em 1953.

Imagem 8. Presidente da Coreia do Sul, Moon Jae-in, e o líder da Coreia do Norte, Kim Jong Un.

Reprodução – G1, 2018. Disponível em: <https://g1.globo.com/mundo/noticia/presidente-sul-coreano-moon-jae-in-e-lider-norte-coreano-kim-jong-un-se-comprometem-a-assinar-acordo-de-paz-para-substituir-o-armisticio.ghtml>. Acesso em: 13 set. 2024.



**Armistício:** acordo formal, em que as partes envolvidas concordam em parar de lutar.

**Zona Desmilitarizada (DMZ):** é uma faixa de terra fortemente fortificada que ainda separa as duas Coreias.



## Foco no conteúdo

Porém, essas tentativas foram interrompidas por incidentes e uma crescente tensão militar. Desde 2020, testes com mísseis balísticos e armas nucleares subaquáticas por parte da Coreia do Norte, e balões com propagandas da Coreia do Sul, suprimiram a chance de um acordo de paz e reunificação das Coreias.

Em 2024, o líder da Coreia do Norte, Kim Jong-un pediu a destruição do Arco da Reunificação em Pyongyang (que ocorreu no primeiro semestre) que representava a esperança para a reunificação, mas com sua demolição também marcou o afastamento das nações.



Imagem 9. Arco da Reunificação em Pyongyang, antes de ser demolido.

Reprodução – BJØRN CHRISTIAN TØRRISSEN/WIKIMEDIA COMMONS, 2014. Disponível em: <https://commons.wikimedia.org/wiki/File:Monument-to-National-Reunification-2014.jpg>. Acesso em: 13 set. 2024.





**Pause e responda**

**UM PASSO DE CADA VEZ**



**2 minutos**

## **Coreias**

Qual o monumento construído nos anos 2000 que significava uma reaproximação entre as Coreias?

**Ponte da Liberdade**

**Arco da Reunificação**

**Zona Militarizada**

**Paralelo 38**





# Coreias

Qual o monumento construído nos anos 2000 que significava uma reaproximação entre as Coreias?



Ponte da Liberdade

Arco da Reunificação



Zona Militarizada

Paralelo 38





Atualmente, apenas treze países, mais o Vaticano, reconhecem Taiwan como uma nação autônoma, apesar de ter uma economia forte, presidente e poder militar. Pensando nisso, responda:

1. Como a ilha de Taiwan é designada, segundo a China?
2. O que significa o termo “Uma China?”
3. Quais os interesses dos EUA em Taiwan?
4. Como a China utiliza sua influência para frear o reconhecimento de Taiwan como nação por outros países?

### Correção

- a) De acordo com a China, “Taiwan é uma província rebelde”. Apesar de ter presidente, sistema político próprio, e até mesmo um Exército, nunca apresentou formalmente uma declaração de independência.
- b) A política de “Uma China”, é adotada pelo governo chinês para isolar Taiwan ou outras regiões da China (como o Tibete), impedindo países de fazer negócios com a China, caso reconheçam uma dessas áreas.
- c) Os EUA possuem estreito interesse em Taiwan, devido a tecnologia e desenvolvimento de microchips e circuitos utilizados para componentes eletrônicos, desde smartphones, até veículos. Atualmente, Taiwan responde por mais da metade de toda a produção mundial dessa tecnologia. Caso fique apenas sob o domínio do governo chinês, poderia impactar negativamente nos investimentos militares e civis dos EUA em diversos setores. Além disso, Taiwan faz parte de uma área junto ao Japão e a Coreia do Sul, com interesses e modelos econômico e políticos, mais alinhados ao dos EUA, do que ao da China.
- d) Além da política de “Uma China”, que impede países que reconheçam Taiwan como uma nação de fazer negócios com a segunda maior economia no mundo, a China aumentou seu poder militar na região, com exercícios militares e demonstração de força próxima a ilha, ainda que Taiwan tenha autorização para comercializar armas com os EUA.



## Encerramento



5 minutos


COM SUAS PALAVRAS



1. A China apresentou um crescimento econômico constante desde a década de 1970. Quais as políticas adotadas por este país para conseguir esse desenvolvimento?
2. Por quais motivos as Coreias se separaram no último século e o que significa o estado de Guerra?

Imagem10. Bandeiras da China, Coreia do Norte, Taiwan e Coreia do Sul.

© Getty Images



# Aprofundando

**A seguir, você encontra uma seleção de exercícios extras, que ampliam as possibilidades de prática, de retomada e aprofundamento do conteúdo estudado.**





(Fuvest, 2023) “A China enviou ontem navios de guerra e dezenas de caças para Taiwan, em retaliação a uma reunião entre a presidente da ilha, Tsai Ing-Wen, e o presidente da Câmara dos Deputados do EUA, Kevin McCarty, na Califórnia”.

O Estado de São Paulo, 08/04/2023. Adaptado.

A reportagem faz alusão ao aumento das tensões geopolíticas entre China e Taiwan. Sobre este tema, é correto afirmar:

Disponível em:

[https://sisq.elitecampinas.com.br/GabaritoVestibulares/Visualizar/Questao?id\\_questao\\_tipo=10511](https://sisq.elitecampinas.com.br/GabaritoVestibulares/Visualizar/Questao?id_questao_tipo=10511). Acesso em: 23 set. 2024.

A

As tensões iniciaram-se no final de década de 1970, em decorrência das mudanças políticas e econômicas perpetradas pelo então presidente chinês Deng Xiaoping, que resultaram na declaração de independência de Taiwan em relação à China.

B

Iniciadas ainda na primeira metade do século XX, as tensões entre China e Taiwan aumentaram desde então em decorrência da presença militar dos EUA no território taiwanês, o que contraria os interesses geopolíticos chineses na região.

C

As tensões decorreram do aumento da influência russa sobre o território taiwanês, com foco na exploração do potencial mercado consumidor, considerado estratégico para o aumento das exportações do gás natural russo.

D

Com apoio soviético, Taiwan conseguiu independência do território chinês no final da década de 1960. Após o fim da Guerra Fria, tornou-se uma potência tecnológica, o que ampliou o interesse geopolítico chinês na retomada desse território.

E

Taiwan é reconhecido como país independente pelos EUA e tem emergido na rota dos conflitos entre os governos estadunidense e chinês, o que pode ser interpretado como indício do deslocamento do eixo geopolítico do mundo para o sudeste asiático.

## Aprofundando

(Fuvest, 2023) “A China enviou ontem navios de guerra e dezenas de caças para Taiwan, em retaliação a uma reunião entre a presidente da ilha, Tsai Ing-Wen, e o presidente da Câmara dos Deputados do EUA, Kevin McCarty, na Califórnia”.

O Estado de São Paulo, 08/04/2023. Adaptado.

A reportagem faz alusão ao aumento das tensões geopolíticas entre China e Taiwan. Sobre este tema, é correto afirmar:

Disponível em:

[https://sisq.elitecampinas.com.br/GabaritoVestibulares/VisualizarQuestao?id\\_questao\\_tipo=10511](https://sisq.elitecampinas.com.br/GabaritoVestibulares/VisualizarQuestao?id_questao_tipo=10511). Acesso em: 23 set. 2024.

- A** As tensões iniciaram-se no final de década de 1970, em decorrência das mudanças políticas e econômicas perpetradas pelo então presidente chinês Deng Xiaoping, que resultaram na declaração de independência de Taiwan em relação à China. **×**
- B** Iniciadas ainda na primeira metade do século XX, as tensões entre China e Taiwan aumentaram desde então em decorrência da presença militar dos EUA no território taiwanês, o que contraria os interesses geopolíticos chineses na região. **✓**
- C** As tensões decorreram do aumento da influência russa sobre o território taiwanês, com foco na exploração do potencial mercado consumidor, considerado estratégico para o aumento das exportações do gás natural russo. **×**
- D** Com apoio soviético, Taiwan conseguiu independência do território chinês no final da década de 1960. Após o fim da Guerra Fria, tornou-se uma potência tecnológica, o que ampliou o interesse geopolítico chinês na retomada desse território. **×**
- E** Taiwan é reconhecido como país independente pelos EUA e tem emergido na rota dos conflitos entre os governos estadunidense e chinês, o que pode ser interpretado como indício do deslocamento do eixo geopolítico do mundo para o sudeste asiático. **×**



## Aprofundando

(Unesp, 2018) Kim Jong-un atravessou o paralelo 38 que divide a Península Coreana às 9h28, hora local desta sexta-feira, e se tornou o primeiro governante do Norte a pisar no Sul desde o fim da Guerra da Coreia, em 1953. Do outro lado da fronteira, ele foi recebido por Moon Jae-in, o presidente eleito em 2017 com uma plataforma que defende a coexistência pacífica e a cooperação entre os dois lados separados em zonas de influência comunista e capitalista depois da Segunda Guerra.

- a) Descreva o contexto histórico em que ocorreu a Guerra da Coreia.
- b) Caracterize a atual situação da Coreia do Norte e a da Coreia do Sul, indicando para cada uma delas: regime político, organização econômica e postura diplomática.

Disponível em:

[https://sisq.elitecampinas.com.br/GabaritoVestibulares/VisualizarQuestao?id\\_questao\\_tipo=1728](https://sisq.elitecampinas.com.br/GabaritoVestibulares/VisualizarQuestao?id_questao_tipo=1728). Acesso em: 23 set. 2024.

TODO MUNDO ESCREVE



Veja no livro!



Claudia Trevisan. “Em encontro histórico na Coreia do Sul, Kim fala em ‘novo capítulo’ e ‘era de paz’.”

---

(<https://internacional.estadao.com.br>, 26.04.2018. Adaptado.)

- a) A Guerra da Coreia (1950-1953) ocorre no contexto da Guerra Fria. Após a Segunda Guerra Mundial, a península foi dividida entre EUA e União Soviética. Em 1949, tropas norte-coreanas invadiram a Coreia do Sul, e os EUA enviaram tropas para o sul na intenção de evitar a disseminação do socialismo na região. Em 1953 é assinado o armistício, que mantém as Coreias em estado de guerra, já que um tratado de paz nunca foi assinado.
- b) Regime político: Regime ditatorial na Coreia do Norte e democracia presidencialista na Coreia do Sul.

Organização econômica: Socialismo na Coreia do Norte, cuja economia é centralizada e planificada, com industrialização incipiente e menores taxas de urbanização; e capitalismo na Coreia do Sul, com grandes investimentos vindos dos EUA e Japão, o que fez o país se tornar um dos principais Tigres Asiáticos, possui altos níveis de industrialização e urbanização e importantes transnacionais espalhadas pelo mundo.

Postura diplomática: As principais relações e acordos são com Rússia e China. Mantém relações diplomáticas, ainda que conturbadas, com a Coreia do Sul, mas o programa nuclear que vem sendo desenvolvido tem causado instabilidades geopolíticas na região. Em 2018, tentou uma aproximação com os Estados Unidos, que viabilizou a assinatura de um acordo de desnuclearização da Coreia, mas sem metas para o cumprimento; Já a Coreia do Sul, tem relações com quase toda a comunidade internacional, e participa das principais organizações mundiais como a ONU, APEC etc.

## Referências

ALBUQUERQUE, A. B. de. **Coreia do Sul e Taiwan**: uma história comparada do pós-guerra. XII Congresso Brasileiro de História Econômica, 2017. Disponível em: <https://www.abphe.org.br/uploads/ABPHE%202017/7%20Coreia%20do%20Sul%20e%20Taiwan.pdf>. Acesso em: 13 set. 2024.

AMERISE, A. **Por que as duas Coreias seguem tecnicamente em guerra, 70 anos após acordo de cessar-fogo**. BBC News Brasil, 27 jul. 2023. Disponível em: <https://www.bbc.com/portuguese/articles/cxep102jvk2o>. Acesso em: 13 set. 2024.

BBC NEWS BRASIL. **Por que as eleições em Taiwan são tão importantes para o mundo**, 12 jan. 2024. Disponível em: <https://www.bbc.com/portuguese/articles/cl4epygner6o>. Acesso em: 13 set. 2024.

BROWN, D. **Como China perdeu Taiwan e qual a situação da ‘ilha rebelde’**. BBC News Brasil, 11 jan. 2024. Disponível em: <https://www.bbc.com/portuguese/articles/c72yyjky4emo>. Acesso em: 13 set. 2024.

CUNHA, C. **Caminho para a paz – Coreias realizam acordo histórico**. Uol, [s.d.]. Disponível em: <https://vestibular.uol.com.br/resumo-das-disciplinas/atualidades/caminho-para-a-paz-coreias-realizam-acordo-historico.htm>. Acesso em: 13 set. 2024.



## Referências

DW BRASIL. **Porque a economia mundial colapsaria com invasão a Taiwan?** YouTube, 2024. Disponível em: <https://www.youtube.com/watch?v=gmd9GPSIGpw>. Acesso em: 13 set. 2024.

G1. **Governo autoriza BYD a instalar fábrica no polo petroquímico de Camaçari, local onde funcionou a Ford**, 5 mar. 2024. Disponível em: <https://g1.globo.com/ba/bahia/noticia/2024/03/05/fabrica-da-byd-na-bahia.ghtml>. Acesso em: 13 set. 2024.

G1. **Coreia do Norte confirma que balões com lixo e fezes são retaliação à Coreia do Sul e diz que envio seguirá**, 29 maio 2024. Disponível em: <https://g1.globo.com/mundo/noticia/2024/05/29/coreia-do-norte-diz-que-seguira-enviando-baloes-com-lixo-e-fezes-para-coreia-do-sul-moradores-temem-guerra.ghtml>. Acesso em: 13 set. 2024.

LEMOV, D. **Aula nota 10**: 49 técnicas para ser um professor campeão de audiência. São Paulo: Da Boa Prosa/Fundação Lemann, 2011.

MENDONÇA, C. **Taiwan – uma nação ou uma província chinesa?** Uol, [s.d.]. Disponível em: <https://educacao.uol.com.br/disciplinas/geografia/taiwan-uma-nacao-ou-uma-provincia-chinesa.htm>. Acesso em: 13 set. 2024.

## Referências

NACIONES UNIDAS. **China sostiene que Taiwán es parte inseparable de su territorio y se opone al hostigamiento en las relaciones internacionales**, 24 set. 2022. Disponível em:

<https://news.un.org/es/story/2022/09/1515201>. Acesso em: 13 set. 2024.

SÃO PAULO (Estado) Secretaria da Educação. **Currículo Paulista**, 2019. Disponível em:

[https://efape.educacao.sp.gov.br/curriculopaulista/wp-content/uploads/2023/02/Curriculo\\_Paulista-etapas-Educa%C3%A7%C3%A3o-Infantil-e-Ensino-Fundamental-ISBN.pdf](https://efape.educacao.sp.gov.br/curriculopaulista/wp-content/uploads/2023/02/Curriculo_Paulista-etapas-Educa%C3%A7%C3%A3o-Infantil-e-Ensino-Fundamental-ISBN.pdf). Acesso em: 13 set. 2024.

SÃO PAULO (Estado). Secretaria da Educação. **Currículo Paulista**: etapa Ensino Médio, 2020. Disponível em: [https://efape.educacao.sp.gov.br/curriculopaulista/wp-content/uploads/2023/02/CURR%C3%8DCULO-PAULISTA-etapa-Ensino-M%C3%A9dio\\_ISBN.pdf](https://efape.educacao.sp.gov.br/curriculopaulista/wp-content/uploads/2023/02/CURR%C3%8DCULO-PAULISTA-etapa-Ensino-M%C3%A9dio_ISBN.pdf). Acesso em: 13 set. 2024.

SCHOSSLER, A.; MOREIRA, M. **O histórico das tensões entre China e Taiwan**. DW, 12 abr. 2023.

Disponível em: <https://www.dw.com/pt-br/o-hist%C3%B3rico-das-tens%C3%B5es-entre-china-e-taiwan/a-65293548>. Acesso em: 13 set. 2024.

SILVA, D. N. **Guerra da Coreia**. História do Mundo, [s.d.]. Disponível em:

<https://www.historiadomundo.com.br/idade-contemporanea/guerra-da-coreia.htm>. Acesso em: 13 set. 2024.

Identidade visual: Imagens © Getty Images.



# Para professores



## Slide 2



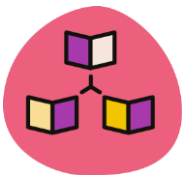
**Habilidade:** (EF09GE09) Analisar características de países e grupos de países europeus, asiáticos e da Oceania em seus aspectos populacionais, políticos, ambientais, urbanos e econômicos, e discutir suas desigualdades sociais e econômicas, apropriação e pressões sobre seus ambientes físico-naturais. (SÃO PAULO, 2019)

(EF09GE15) Comparar e classificar diferentes regiões do mundo com base em informações populacionais, econômicas e socioambientais representadas em mapas temáticos e com diferentes projeções cartográficas. (SÃO PAULO, 2019)

## Slide 3



**Tempo:** 5 minutos.



**Dinâmica de condução:** Realize a leitura com os estudantes e, em seguida, realize as atividades. Solicite que todos participem, mesmo que as respostas possam parecer incorretas, é importante validar o esforço. Aproveite para anotar algumas respostas na lousa e peça para que os estudantes anotem em seus cadernos, e ao final da aula, solicite que releiam e digam quais são fatos reais e quais não são.

### Slide 3

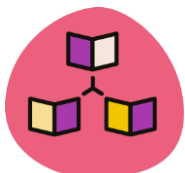


**Expectativas de respostas:** Espera-se que os estudantes tenham algum conhecimento sobre a península, como a divisão em duas Coreias, que tenham ideia que cada uma vive sobre um regime diferente. E que saibam que Taiwan é uma ilha e onde se localiza. A segunda questão, talvez seja mais difícil aos estudantes, caso esses não tenham tanto o hábito de leitura ou de assistir aos jornais. Apesar de ser uma disputa de longo tempo, talvez seja mais difícil a discussão.

### Slide 7 e 8



**Tempo:** 2 minutos.



**Dinâmica de condução:** Este momento é voltado a prática do estudante. Aguarde a resolução e, se necessário, trabalhe com as dificuldades encontradas até o momento.

## Slide 7 e 8



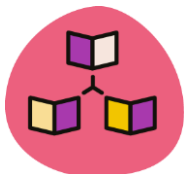
**Expectativas de respostas:** A alternativa correta é a terceira, pois a criação de ZEEs surtiu retorno econômico rapidamente, levando milhões a se mudarem para áreas em constante urbanização.

**Distratores:** A segunda está incorreta, pois a cidade recebeu milhões de habitantes; a primeira está incorreta, pois muitas pessoas se mudaram e o crescimento econômico foi rápido; e a última está incorreta, pois milhões saíram da extrema pobreza.

## Slide 17 e 18



**Tempo:** 2 minutos.



**Dinâmica de condução:** Este momento é voltado a prática do estudante. Aguarde a resolução e, se necessário, trabalhe com as dificuldades encontradas até o momento.



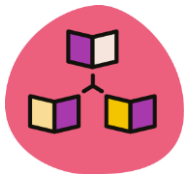
**Expectativas de respostas:** Espera-se que os estudantes assinalem a segunda alternativa, recordando que este Arco foi demolido em 2024.



## Slide 19



**Tempo:** 7 minutos.



**Dinâmica de condução:** Este momento é voltado a prática do estudante. Aguarde a resolução e, se necessário, trabalhe com as dificuldades encontradas até o momento.

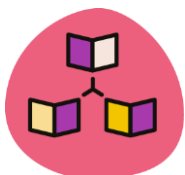


**Expectativas de respostas:** Correção na próxima tela.

## Slide 23 e 24



**Tempo:** 3 minutos.



**Dinâmica de condução:** A seção traz atividades de vestibular, Enem e outras provas importantes do país. A ideia é que os estudantes consigam responder as atividades de maneira prática. Caso haja muitas respostas erradas, vale trazer os distratores para os estudantes como método de análise das alternativas.

## Slide 22 e 23

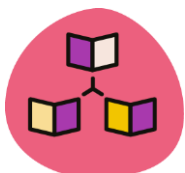


**Expectativas de respostas:** Espera-se que os estudantes assinalem a alternativa [B] como correta. A alternativa [A] está incorreta, pois as tensões pós a Guerra Civil Chinesa em 1949; [C] está incorreta, pois não ocorreu influencia russa sobre Taiwan; [D] está incorreta, pois Taiwan teve apoio dos Estados Unidos e não da União Soviética; [E] está incorreta, pois Taiwan não é reconhecido como país independente pelos EUA, apenas reconhecem a luta da ilha por estabelecer um governo próprio e democrático.

## Slide 24



**Tempo:** 5 minutos.



**Dinâmica de condução:** A seção traz atividades de vestibular, Enem e outras provas importantes do país. A ideia é que os estudantes consigam responder as atividades de maneira prática. Caso haja muitas respostas erradas, vale trazer os distratores para os estudantes como método de análise das alternativas.





**Expectativas de respostas:** Espera-se que os estudantes consigam responder as questões tendo como base:

**a)** A Guerra da Coreia (1950-1953) ocorre no contexto da Guerra Fria. A península sofria com intervenções estrangeiras desde o início do século XX quando foi anexado ao Japão. Após a Segunda Guerra Mundial, a península foi dividida entre EUA e União Soviética.

Em 1949, tropas norte-coreanas invadiram a Coreia do Sul, e os EUA enviaram tropas para o sul na intenção de evitar a disseminação do socialismo na região. Em 1953 é assinado o armistício, que define o paralelo 38 norte como a fronteira entre os países, estabelecendo ali uma zona desmilitarizada (ZDM).

**b) Regime político:** Regime ditatorial na Coreia do Norte e democracia presidencialista na Coreia do Sul.

**Organização econômica:** Socialismo na Coreia do Norte, cuja economia é centralizada e planificada, com industrialização incipiente e menores taxas de urbanização; e capitalismo na Coreia do Sul, com grandes investimentos vindos dos EUA e Japão, o que fez o país se tornar um dos principais Tigres Asiáticos, possui altos níveis de industrialização e urbanização e importantes transnacionais espalhadas pelo mundo.







**Postura diplomática:** Praticamente um isolamento da Coreia do Norte, mantendo relações com a China e a Coreia do Sul, e recentemente há um esforço de aproximação com os Estados Unidos, que desde 2018, viabilizou a assinatura de um acordo de desnuclearização da Coreia, mas sem metas para o cumprimento; Já a Coreia do Sul, tem relações com quase toda a comunidade internacional, e participa das principais organizações mundiais como a ONU, APEC etc.

